




OM 037757

VI. Tollforgató 2014.03.29.
Monorierdei Fekete István Általános Iskola
✉: 2213 Monorierdő, Szabadság út 43.
☎: 06 29 / 419-113
✉: titkarsag@fekete-merdo.sulinet.hu
🌐: <http://www.fekete-merdo.sulinet.hu>



NÉV: _____

Történelem 5-6. osztály

1. feladat

Egészítsd ki a szöveget!

Észak felől _____ nép hódította meg Indiát. Több királyságot hoztak létre, melyeket _____ nevű uralkodójuk egységesített.

2p/

2. feladat

Melyik fogalmat jelöli az alábbi meghatározás!

az indiai társadalom merev, szigorú tagolódása: _____

1p/

3. feladat

Sorold fel a hódítás után létrejött négy fő társadalmi csoportot!

1. _____
2. _____
3. _____
4. _____

4p/

4. feladat

Mit jelent a Buddha szó?

Mi volt a vallásalapító Buddha eredeti neve?

4p/

5. feladat

Húzd alá azokat az állításokat, melyek Buddha tanai közé tartoznak!

1. a gazdagságra kell törekedni 2. mindig fűgét kell enni 3. meg kell szüntetni a gyűlölködést 4. nem szabad mohónak lenni

2p/

6. feladat

Töltsd ki a táblázatot!

terület	folyók	
Egyiptom		
		Eufrátesz
India		Gangesz
Kína		Jangce

5p/

7. feladat

A következő felsorolások közül melyiket kapcsolnád Kínához, s melyiket Indiához?

1. szent állatuk a tehén
2. felépítették a Nagy falat
3. ők készítettek először papírt
4. itt találták meg a cseréphadsereget
5. innen származik a selyem
6. tőlük kaptuk az általunk használt (arab) számokat
7. feltalálták a vasolvasztást

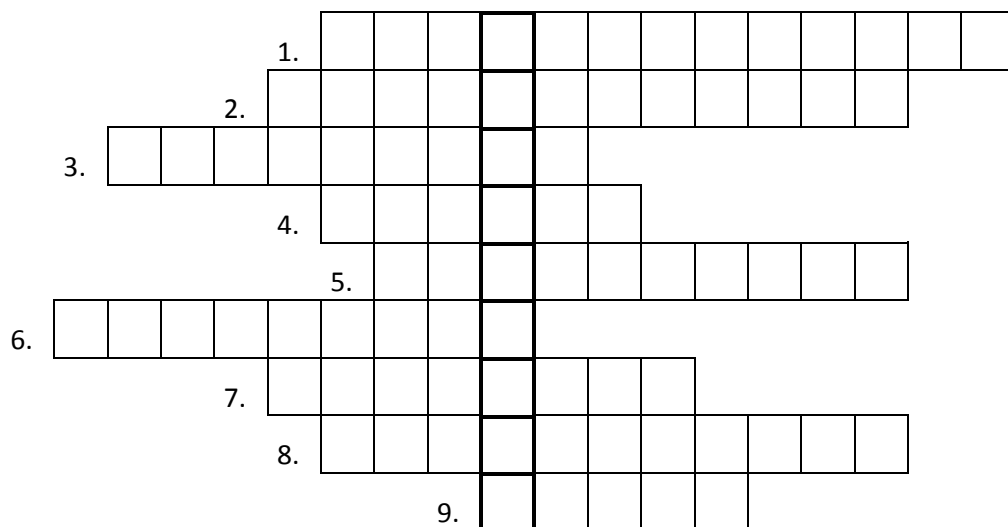
India: _____

Kína: _____

7p/

8. feladat

1. A perzsa királyi gyalogság tagjai
2. Olyan vallásra jellemző, mely egyszerre több istent is tisztel.
3. A művészet egyik ága.
4. A mezopotámiaiak írása.
5. A művészet egy másik ága.
6. A zsidó és a keresztény vallás is szent könyvének tekinti.
7. Ide temetkeztek a kései egyiptomi uralkodók: ... völgye.
8. Ez jellemző a zsidók vallására.
9. Az egyiptomi uralkodót hívták így.



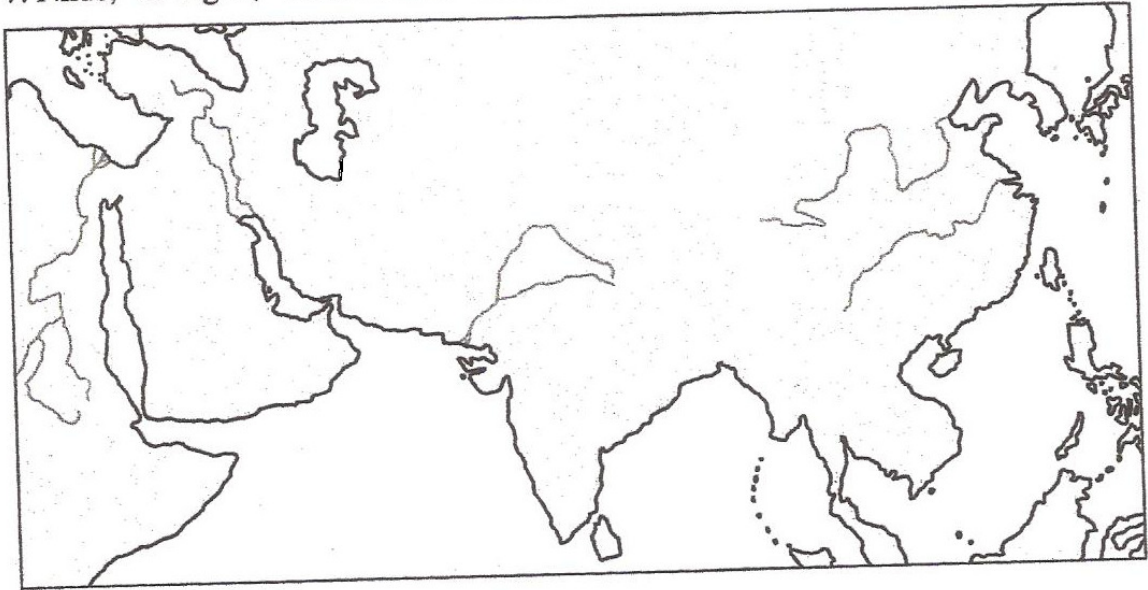
Mi a jelentése a függőleges, bekeretezett kockákból kiolvasható szónak?

10p/

9. feladat

Jelöld a térképvázlaton a felsorolt földrajzi neveket!

1. Mezopotámia; 2. Egyiptom; 3. Fönícia; 4. Kánaán; 5. India; 6. Kína;
7. Nílus; 8. Tigris; 9. Eufrátesz; 10. Indus; 11. Sárga-folyó



11p/

10. feladat

Mely történelmi esemény történt előbb az alábbiak közül! Húzd alá!

- a) Buddha halála ←————→ Krisztus születése
- b) az egységes India létrejötte ←————→ a zsidó állam kialakulása
- c) az Asszír Birodalom legnagyobb kiterjedése ←————→ Fönícia virágkora
- d) az egységes Egyiptom létrejötte ←————→ Hammurapi uralkodása
- e) a zsidók kivonulása Egyiptomból ←————→ a tíz csapás
- f) Buddha születése ←————→ a Csin család hatalomra kerülése

6p/
Összes pont: 52p/