

TOLLFORGATÓ TEHETSÉGGKUTATÓ VERSENY

TERMÉSZETISMERET

5-6. OSZTÁLY

Tanuló neve, osztálya: _____

Iskola neve, címe: _____

Levelezési cím: _____

Felkészítő tanár neve: _____

1. feladat

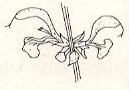










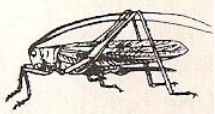







Mely élőlényekkel kapcsolatban emlegettük az alábbi szavakat, kifejezéseket? Írd nevüket a megfelelő pontsorra!

agancs:.....	agyar:	átváltozás:.....
	
barkavirágzat:.....	bocskor:.....	cserje:.....
		szalmaszár:.....
egylaki:.....	bőrizomtömlő:.....
	élősködő:.....
fészekvirágzat:	gyöktörzs:.....
.....		köpeny:.....
kétlaki:.....	szárölelő levél:.....	lemezes csőr:
	
makktermés:.....	kifejlés:	sejtszervecske:.....
.....	
ostor:.....	pödörnyelv:.....	vetelő ujj:.....
	tüske:
szemtermés:.....	kétéves növény:.....	oldalvonal:.....
.....

26	
----	--

2. feladat

Mely élőlényeket ismered fel az ábrák alapján? Nevezd meg őket! Helyezd közös tulajdonságaik alapján az élőlények betűjelét a megfelelő halmazba!

 a)	 b)	 c)	
 d)	 e)	 h)	 i)
 f)	 m)	 l)	 k)
 o)	 p)	 r)	 s)
 t)	 n)	 j)	 g)

növények zárvatermők egyszikűek kétszikűek	állatok ízeltlábúak gerincesek kétéltűek madarak hüllők emlősök
---	---

3. feladat

Egy magyar természettudós nevét rejti a rejtvény. Fejtsd meg, s írd róla legalább 5 mondatot!



+



+

N

OTTÓ

Megfejtés: _____

6	
---	--

4. feladat

Egészítsd ki a szöveget a térkép segítségével!

Kirándulásunk kiindulópontja Vas megye székhelye: _____ volt.

Innen az északkeletre fekvő megyeszékhelyre _____ utaztunk.

Ennek lakossága meghaladja a _____ főt. Területén a _____ és a _____ ömlik bele a Dunába. Délkeltre folytatva utunkat a hasonló

népességszámú megyeszékhelyen _____ töltöttünk el egy napot. Innen

két tóhoz is kirándultunk. Az északkeletre fekvő _____-tóhoz, és a délnyugatra

lévő _____ . A Balaton déli partján továbbutazva még megálltunk a

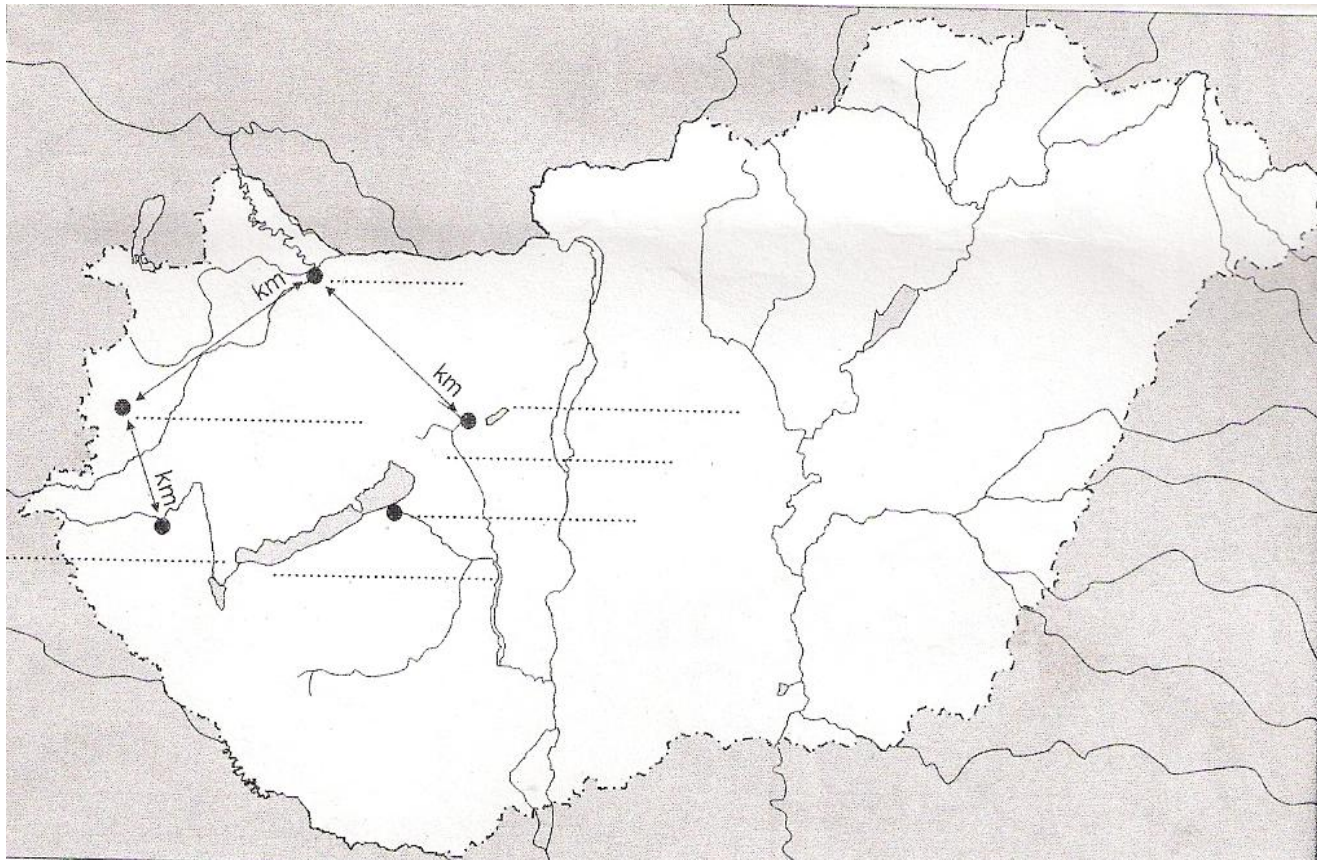
tópart legnagyobb városánál: _____ . Hazafelé érintettük Zala

megyeszékhelyét: _____ , majd innen _____ irányba

haladva elértük kiindulópontunkat a _____ patak mellett fekvő

Szombathelyt.

Írd a térkép vázlatba a kiegészítésben szereplő település és tóneveket! Nézd meg és írd be a nyilakkal jelölt légvonalbeli távolságokat!



5. feladat

Melyik külső erő, milyen munkájának eredményei az alábbi képződmények?
Töltsd ki a táblázatot!

Képződmény	Külső erő	Építő vagy romboló munka
a folyó szorosa		
zátony a folyómederben		
homokbuckák		
mészköhegység barlangja		
U- alakú völgy		
V- alakú völgy		
morénahalmok		

14	
-----------	--

Összesen:

106	
------------	--