

**XIII. TOLLFORGATÓ TEHETSÉGGKUTATÓ VERSENY**

**TÖRTÉNELEM**

**5-6. OSZTÁLY**

*Tanuló neve:* \_\_\_\_\_

\_\_\_\_\_

*Osztálya:* \_\_\_\_\_

*Iskola neve, címe:* \_\_\_\_\_

\_\_\_\_\_

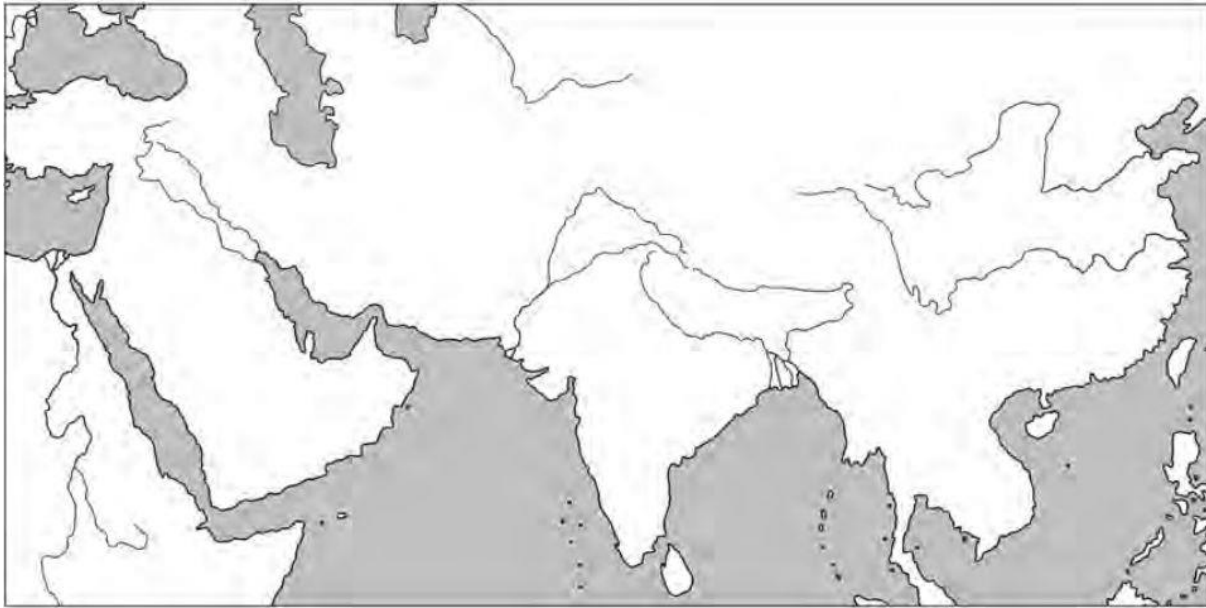
*Felkészítő tanár neve:* \_\_\_\_\_

\_\_\_\_\_

A nevet NYOMTATOTT NAGYBETŰVEL kérjük kitölteni az olvashatóság érdekében! Az iskola neve és címe helyére lehet hosszú bélyegzőt is tenni!

(HATÁRIDŐ UTÁN ÉRKEZŐ FELADATOKAT NEM FOGADUNK EL!!)

**1. Jelöld a térképvázlaton Egyiptomot, Indiát, Mezopotámiát és Kínát!**



4p/

**2. Melyik ókori államban használták az alábbi írásokat?**

hieroglifa: \_\_\_\_\_

ékírás: \_\_\_\_\_

ecsettel papírra festett jelek: \_\_\_\_\_

betűírás (hangjelölő): \_\_\_\_\_

4p/

**3. Hol római, hol arab! Pótold a hiányzó számokat!**

MDCCCXLVIII: \_\_\_\_\_

CDLXXVI: \_\_\_\_\_

\_\_\_\_\_ : 2005

\_\_\_\_\_ : 155

4p/


**4. Írd a következő évszámok után, hogy hányadik században járunk!**

2020: \_\_\_\_\_ század

476: \_\_\_\_\_ század

2p/

**5. Fejtsd meg a keresztrejtvényt!**



Vízszintes:

5. Ez került az olimpiai bajnokok fejére.
6. Görög törzs, Spárta alapító.
7. Manapság is négyévente rendezik meg.
8. Nem alakult ki egységes Hellaszban.
9. Az Íliász szerzője.
10. Görög törzs, Attika lakói.
11. Görög katonaállam

Függőleges:

1. Népuralom
2. Krétai útvesztő
3. Emlékét egy futószám is őrzi.
4. Schliemann álma.
6. Athéni köznép

**12p/**

**6. Pótold a szöveg hiányzó adatait!**

A görög mitológia szerint a főistenek az \_\_\_\_\_ hegyén laktak.  
 A főisten \_\_\_\_\_ volt, az \_\_\_\_\_ ura. A tengerek istene \_\_\_\_\_, az alvilágé pedig \_\_\_\_\_ volt.  
 Héra a \_\_\_\_\_, \_\_\_\_\_ pedig a tudományok és művészetek istene volt. Ő volt egyben \_\_\_\_\_ város védőszentje is.

**8p/**

**7. Írd a neves művészek és tudósok neve mellé, hogy miben jeleskedtek!**

Szophoklész: \_\_\_\_\_ Platón: \_\_\_\_\_  
 Pheidiasz: \_\_\_\_\_ Hérodotosz: \_\_\_\_\_  
 Hippokratész: \_\_\_\_\_ Arisztotelész: \_\_\_\_\_

**6p/**

8. Jelöld (írd be) a térképen Rómát, Konstantinápolyt! Azonosítsd a többi jelölt várost és írd be a nevüket a megfelelő helyre! Jelöld be Pannónia provinciát!



7p/

9. Párosítsd az összetartozó város neveket!

Aquincum	Tác
Savaria	Pécs
Sophiane	Óbuda
Arrabona	Szombathely
Gorsium	Győr

5p/

10. Tedd időrendi sorrendbe a Római Birodalom történetének eseményeit! Írj sorszámokat az események elé!

- \_\_\_ Nagy Konstantin megszünteti a keresztényüldözéseket.
- \_\_\_ A pun háborúk.
- \_\_\_ Augustus császár alatt Róma aranykorát éli.
- \_\_\_ Romulus és Remus.
- \_\_\_ A Nyugatrómai Birodalom bukása.
- \_\_\_ A bölcs Marcus Aurelius császársága.

6p/

11. Melyik államra jellemzőek az alábbi fogalmak és nevek?

téglaégetés, papírkészítés, papiruszkészítés, lélekvándorlás, mumifikálás, egyistenhit, iránytű, Hammurapi, fáraó, selyemszövés, Biblia, monszun, Salamon

Egyiptom: \_\_\_\_\_

Izrael: \_\_\_\_\_

Mezopotámia: \_\_\_\_\_

India: \_\_\_\_\_

Kína: \_\_\_\_\_

13p/

**12. Fejtsd meg az alábbi kifejezéseket! Kire vagy mire vonatkoznak?**

„Nílus ajándéka”: \_\_\_\_\_

„Az egyiptomi papír”: \_\_\_\_\_

Jelentése „Könyvecskék”: \_\_\_\_\_

„Ígéret földje”: \_\_\_\_\_

Jelentése magyarul: Folyóköz: \_\_\_\_\_

Kr.e. 776: \_\_\_\_\_

Dór, jón és korinthoszi : \_\_\_\_\_

„Itt nyugszunk. Vándor, vidd hírül a spártaiaknak:

Megcselekedtük, amit megkövetelt a haza.”: \_\_\_\_\_


„gordiuszi csomó”: \_\_\_\_\_

„Te is, fiam, Brutus?”: \_\_\_\_\_

10p/



**13. Kit ábrázol a kép? Írd a kép alá a megadott nevek közül a megfelelőt!**

Julius Caesar, Csin Si Huang-ti, Periklész, Nagy Sándor



\_\_\_\_\_

\_\_\_\_\_



\_\_\_\_\_

\_\_\_\_\_

4p/

Összesen: 85p/